

Zadanie

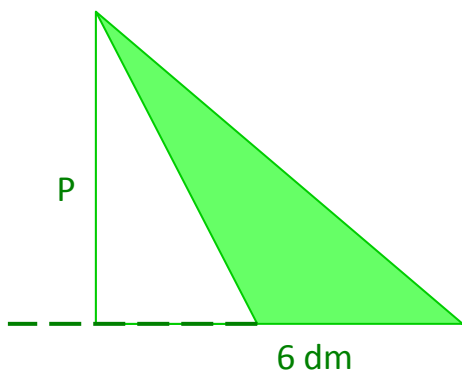
1. Do każdego przykładu zapisz odpowiednie równania:

- a) różnica szóstej części liczby y i 9 jest o 2 mniejsza od sumy liczby 6 i y .
- b) średnia arytmetyczna liczby x i liczby 3 razy większej równa się 32.

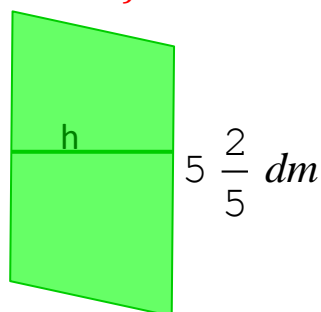
2. Pole każdej z poniższych figur równa się 40 dm^2 .

Zapisz do poniższych rysunków odpowiednie równanie.

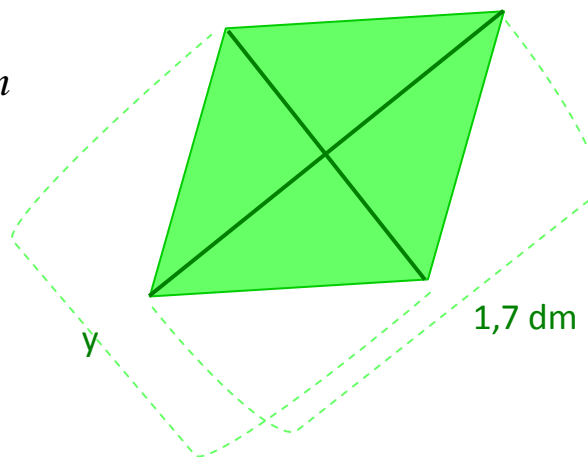
A)



B)



C)



3. Pole czworokąta równa się 55. Ułóż odpowiednie równanie.

